


La table de multiplication par 2

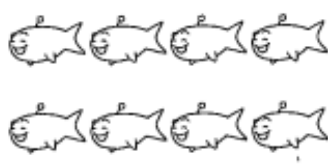


Conseil de la maîtresse : Avant de faire cette fiche, relis ta table de multiplication par 2 et essaye de la mémoriser.


1 Écris la multiplication correspondant à chaque collection.



___ x ___ = ___



___ x ___ = ___



___ x ___ = ___


2 Calcule les produits.

$9 \times 2 =$ ___ $0 \times 2 =$ ___ $5 \times 2 =$ ___ $4 \times 2 =$ ___ $10 \times 2 =$ ___

$6 \times 2 =$ ___ $3 \times 2 =$ ___ $8 \times 2 =$ ___ $2 \times 2 =$ ___ $7 \times 2 =$ ___

3 Colorie selon le code couleur.

- 20 bleu
- 16 vert
- 14 marron
- 12 orange
- 10 rose
- 8 jaune




Astuce pour la mémorisation : Crée ton propre jeu de memory ou de mistigri.

→ 1 carte avec la multiplication 2×5 et 1 autre carte 10.

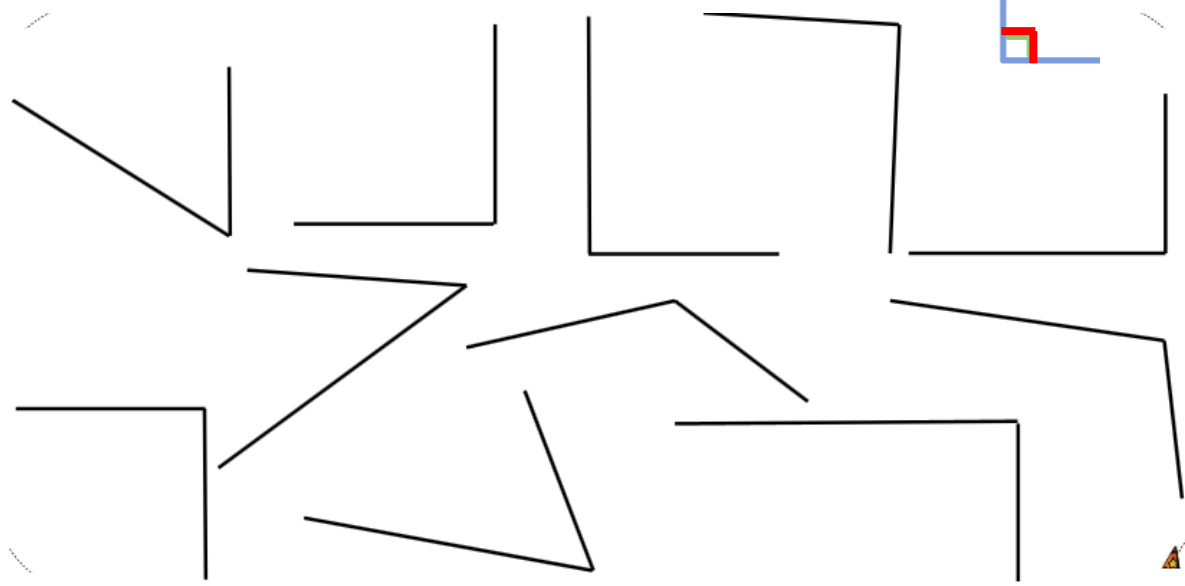
A toi de jouer !



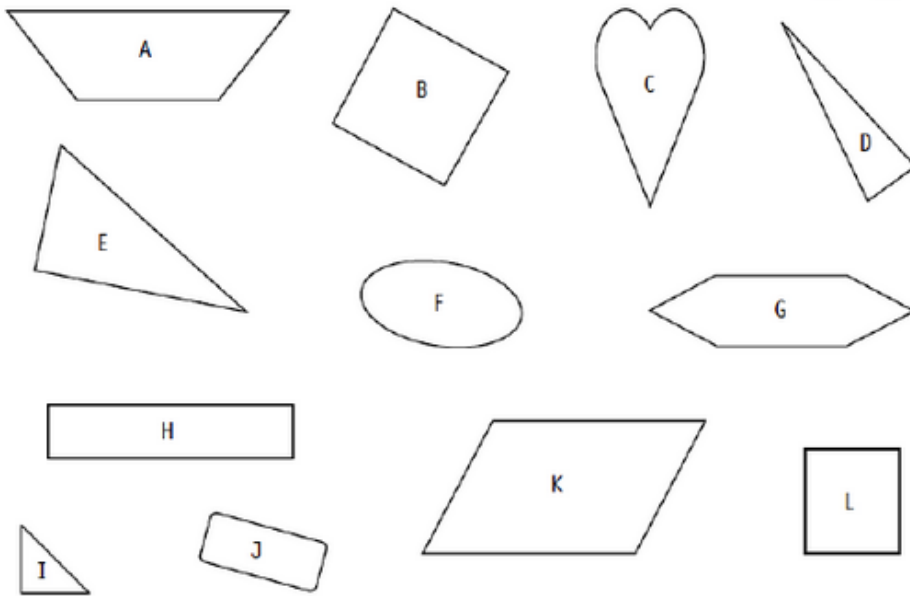
Reconnaitre des angles droits



1. Cherche les angles droits à l'aide de ton équerre et marque-les d'un petit carré rouge.




2. Utilise ton équerre pour trouver les angles droits dans ces figures. Marque-les.



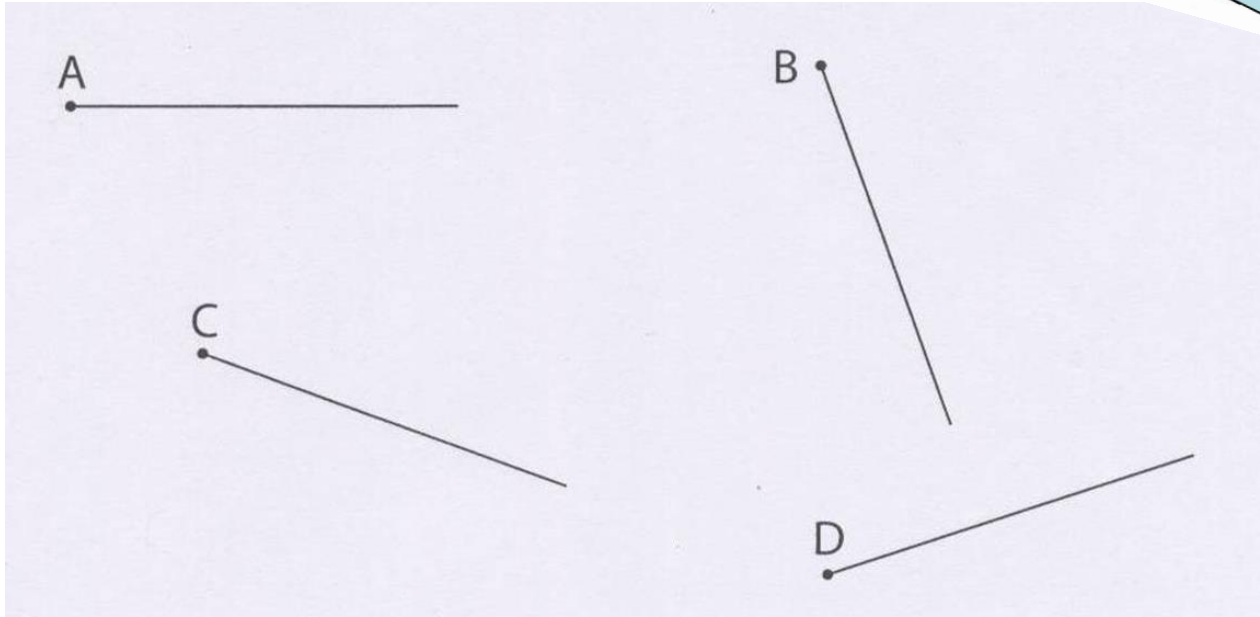
3. Utilise ton équerre pour trouver les angles droits dans cette figure.



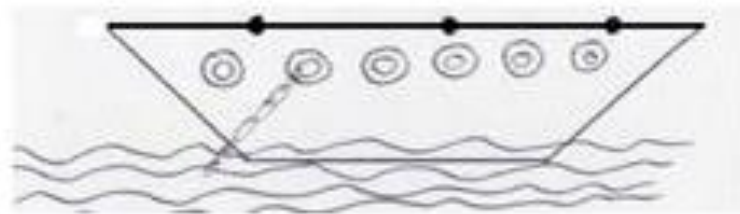
Tracer des angles droits




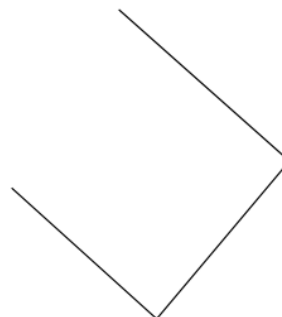
1. Trace un angle droit à chaque point.



2. Trace 3 mats sur ce bateau : ce sont des angles droits.



3. Termine ces quadrilatères, attention il ne doit y avoir que des angles droits.



Révisions sur les nombres de 0 à 999



1. Calcule

$200 + 60 + 6 = \underline{\quad}$

$500 + 20 + 5 = \underline{\quad}$

$300 + 80 + 9 = \underline{\quad}$

$900 + 6 = \underline{\quad}$

$400 + 70 + 1 = \underline{\quad}$

$700 + 10 + 8 = \underline{\quad}$

$200 + 40 = \underline{\quad}$

$400 + 60 + 7 = \underline{\quad}$

2. Décompose ces nombres

$261 = \underline{\hspace{2cm}}$

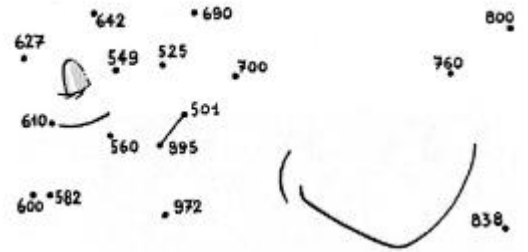
$609 = \underline{\hspace{2cm}}$

$747 = \underline{\hspace{2cm}}$

$598 = \underline{\hspace{2cm}}$

$408 = \underline{\hspace{2cm}}$

3. Relie du plus petit au plus grand.



4. Ecris en lettres

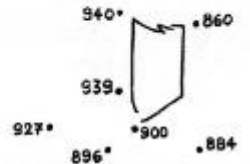
$475 : \underline{\hspace{2cm}}$

$398 : \underline{\hspace{2cm}}$

$271 : \underline{\hspace{2cm}}$

$998 : \underline{\hspace{2cm}}$

$687 : \underline{\hspace{2cm}}$



5. Range ces nombres dans l'ordre décroissant. Tu découvriras le mot mystérieux.

$200 + 90 + 9 \quad \text{L}$

$300 + 60 + 2 \quad \text{O}$

$300 + 40 + 9 \quad \text{I}$

$400 + 90 + 4 \quad \text{E}$

$400 + 70 + 3 \quad \text{T}$

$200 + 80 + 5 \quad \text{E}$

Mot mystérieux :



Jeu : Pour arriver au trésor, il faut que tu comptes de 3 en 3 à partir de 149. Colorie les cases au dur et à mesure.

